



✓ Je sais que le double d'un nombre est égal à deux fois ce nombre.



Sami a 3 pommes.



Lola en a le double.
Lola a deux fois 3 pommes.

$$3 + 3 = 6$$

Lola a 6 pommes.

Complète.

1



$$1 + 1 = 2$$



$$2 + \dots = 4$$



$$3 + \dots = 6$$



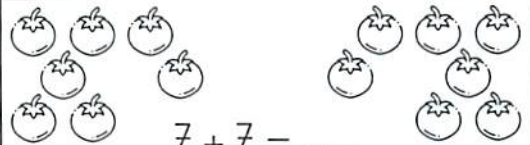
$$\dots + \dots = 8$$



$$\dots + \dots = 10$$



$$6 + 6 = \dots$$



$$7 + 7 = \dots$$



$$\dots + \dots = 16$$



$$\dots + \dots = 18$$




$$10 + 10 = \dots$$

Trace avec la règle.



Écris le double de chaque nombre.

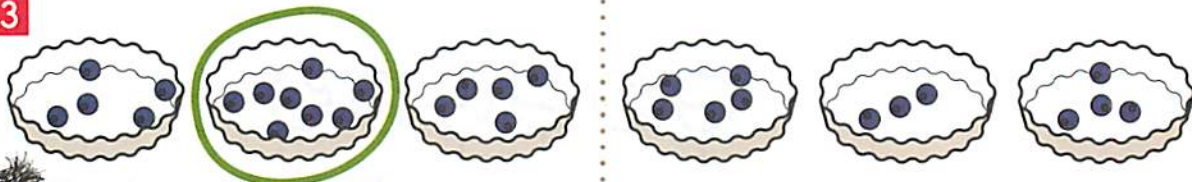
2



5	→	10	1	→	4	→	10	→
9	→	6	→	3	→	8	→

Entoure le bon plat puis complète.

3



$4 + 4 = 8$

Le double de 4 est 8.



$2 + 2 = \dots$

Le double de 2 est



$7 + 7 = \dots$

Le double de 7 est



$6 + 6 = \dots$

Le double de 6 est

4

Lola a 6 ans. L'âge de Timéo est le double de celui de Lola. Quel âge a Timéo?

Je calcule.

Timéo a ans.

5

Sami a 9 billes dans sa poche droite et 9 billes dans sa poche gauche.

Combien a-t-il de billes en tout?

Je calcule.

Sami a billes.

Relie.

40

50

60

70

80



43

39

58

56

66

74

71

84