

17 L'électricité : quels usages, quels dangers ?

Prénom : Date :

1  Observe ces différents objets qui fonctionnent avec de l'électricité.

 Écris sous chacun d'entre eux d'où provient l'électricité utilisée : secteur – pile – batterie.






2  Dessine un objet qui fonctionne avec chaque source d'énergie proposée.


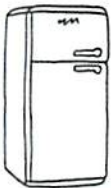
secteur

pile

batterie



3  Entoure l'intrus et explique pourquoi.



4  Indique pour chaque appareil électrique s'il transforme l'électricité en : *chaleur – mouvement – son – lumière*.