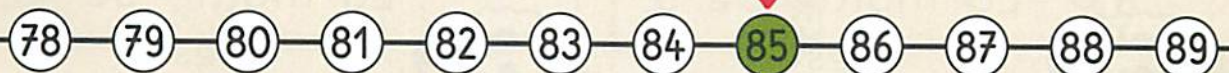



51 Lire et écrire les nombres jusqu'à 89

✓ J'écris les nombres de 80 à 89 de différentes manières.

d	u
8	5

85
 80+5
 20+20+20+20+5
 10+10+10+10+10+10+10+10+5
 8d et 5u
 85u




Écris les nombres en chiffres.



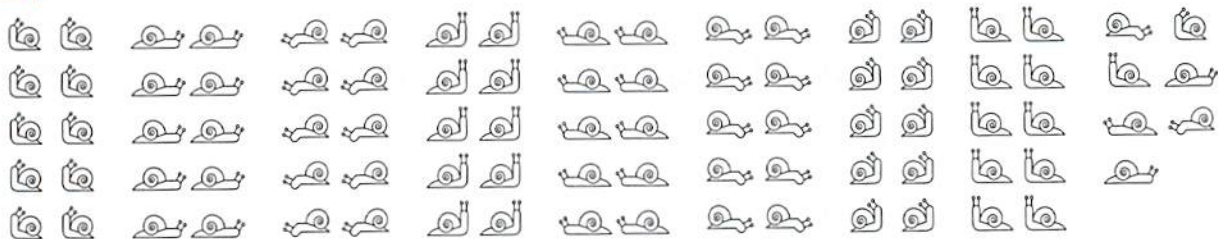
83	8 d 3 u
.....	8 d 6 u
.....	8 d 1 u
.....	4 u 8 d
.....	8 d 9 u
.....	5 u 8 d
.....	10 + 10 + 10 + 10 + 10 + 10 + 10 + 10 + 3
.....	10 + 10 + 10 + 10 + 10 + 10 + 10 + 10 + 7
.....	10 + 10 + 10 + 10 + 10 + 10 + 10 + 10
.....	2 + 10 + 10 + 10 + 10 + 10 + 10 + 10 + 10

Trace à main levée.



Combien y a-t-il d'escargots?

2



Il y a groupes de 10 escargots et escargots tout seuls.

En tout, il y a escargots.

Calcule.

3



$$20 + 20 + 20 + 20 + 3 = 83$$

$$20 + 20 + 20 + 20 + 6 = \dots\dots$$

$$20 + 20 + 20 + 20 + 9 = \dots\dots$$

$$20 + 20 + 20 + 20 + 5 = \dots\dots$$

$$7 + 20 + 20 + 20 + 20 = \dots\dots$$

$$80 + 2 = \dots\dots$$

$$80 + 9 = \dots\dots$$

$$80 + 6 = \dots\dots$$

$$3 + 80 = \dots\dots$$

$$8 + 40 = \dots\dots$$

Écris les nombres en chiffres.

4



quatre-vingt-cinq **85** quatre-vingt-sept

quatre-vingt-un quatre-vingt-quatre

quatre-vingts quatre-vingt-huit

Complète.

70

65

60

....

....

....

....

....

....

....

....