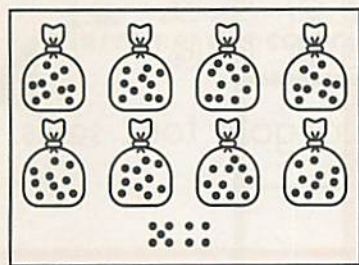


52 Lire et écrire les nombres jusqu'à 99


✓ Je sais que le nombre qui vient juste après quatre-vingt-neuf se nomme quatre-vingt-dix.



On a 89 billes.



On en ajoute 1.



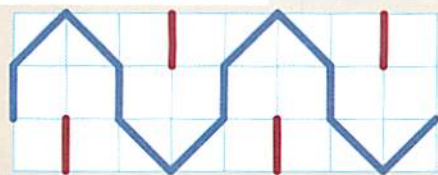
On a 90 billes.

$$\begin{array}{r} 80 + 10 \\ \swarrow \quad \searrow \\ 90 \end{array}$$

Complète.


80 + 10	90	90 + 0
80 + 11	91	90 +
80 + 12	92	90 +
80 + 13	90 + 3
80 + 14	90 + 4
80 + 15	90 + 5
80 + 16	96 +
..... +	97	90 + 7
..... +	98 +
80 + 19 +

Trace à main levée.



Écris le nombre qui vient juste avant et celui qui vient juste après.

2



84 — 85 — 86 — 94 — — 90 —
..... — 98 — — 89 — — 87 —
..... — 97 — — 93 — — 81 —

Cherche le plus grand nombre que tu peux écrire avec 3 étiquettes.


3



<div style="display: flex; justify-content: space-around;"> quatre cinq vingt trente </div> <p>.....</p> <p><i>quatre-vingt-cinq</i> 85</p> <p>.....</p>	<div style="display: flex; justify-content: space-around;"> vingt treize zéro quatre </div> <p>.....</p> <p>.....</p>
<div style="display: flex; justify-content: space-around;"> onze vingt soixante et </div> <p>.....</p> <p>.....</p>	<div style="display: flex; justify-content: space-around;"> cinquante quinze vingt quatre </div> <p>.....</p> <p>.....</p>

Calcule.

4



$80 + 3 = 83$	$80 + 1 = \dots$	$50 + 30 = \dots$
$90 + 7 = \dots$	$90 + 2 = \dots$	$60 + 20 = \dots$
$80 + 4 = \dots$	$80 + 9 = \dots$	$50 + 40 = \dots$
$90 + 1 = \dots$	$90 + 5 = \dots$	$80 + 10 = \dots$

Complète.

0	10	20
---	----	----	-------	-------	-------	-------	-------	-------	-------