

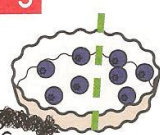
Écris la moitié de chaque nombre.


2

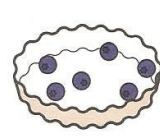
10 → 5 2 → 6 → 4 →
 12 → 18 → 20 → 8 →


Entoure le bon nombre.

3

La moitié de 8, c'est:  16 10 4






La moitié de 10, c'est:  20 5 7






La moitié de 6, c'est:  3 13 7






La moitié de 12, c'est:  4 8 6




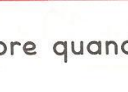

Trace une ligne pour avoir la même somme d'argent de chaque côté.

4

Complète avec deux fois le même nombre quand c'est possible.

5

4 = 2 + 2 12 = + 20 = + 9 = +
 18 = + 7 = + 16 = + 14 = +

Complète.

38 36 34