












50 Connaitre les moitiés

✓ Je sais que pour trouver la moitié d'un nombre, il faut le partager en deux parties égales.



Lola et Sami se partagent 6 pommes. Ils en prennent chacun la moitié. La moitié de 6 pommes, c'est 3 pommes. 3 est la moitié de 6.

Complète.

 <p>La moitié de 2, c'est 1.</p>	 <p>La moitié de 12, c'est</p>
 <p>La moitié de 4, c'est</p>	 <p>La moitié de 14, c'est</p>
 <p>La moitié de 6, c'est</p>	 <p>La moitié de 16, c'est</p>
 <p>La moitié de 8, c'est</p>	 <p>La moitié de 18, c'est</p>
 <p>La moitié de 10, c'est</p>	 <p>La moitié de 20, c'est</p>

Colorie les cases en bleu, puis trace la ligne rouge à la règle.

